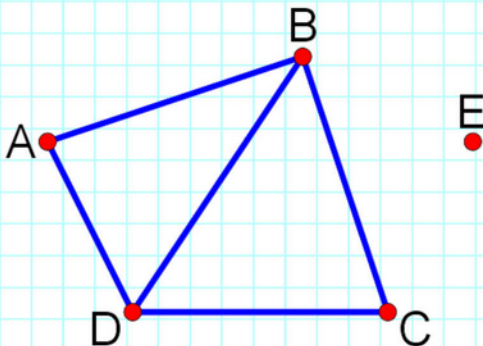


Е. В. Смыкалова

# МАТЕМАТИКА

## ЗАДАЧИ ПО ТЕОРИИ ГРАФОВ

	A	B	C	D	E
A		1	0	1	0
B	1		1	1	0
C	0	1		1	0
D	1	1	1		0
E	0	0	0	0	



6

Е. В. Смыкалова

Математика  
Задачи  
по теории графов

6 класс

Демонверсия

Санкт-Петербург  
СМИ МетаШкола  
2024

УДК 373.51  
ББК 20.я72

Смыкалова Елена Владимировна

С52

Математика. Задачи по теории графов.  
6 класс: Сборник задач / Е. В. Смыкалова. – СПб.: СМИ  
МетаШкола, 2024. – 95 с. – ISBN 978-5-6051895-5-8

Сборник содержит 120 задач по теории графов для 6 класса: задачи про вершины и рёбра графа, задачи на связанные и несвязные графы, задачи на уникурсальные графы и на ориентированные графы. Приводятся образцы оформления для первых четырёх задач каждой главы. Ко всем задачам есть ответы и подробные решения в конце книги. Книга будет интересна и полезна ученикам 6 класса, их родителям и учителям математики.

ISBN 978-5-6051895-5-8

© Смыкалова Е. В., 2024

© СМИ МетаШкола, 2024

Все права защищены.

Эта книга, целиком или частично, не может быть использована или размещена где-либо в любой форме и с использованием любых технических средств без письменного разрешения владельца авторских прав. Нарушение прав преследуется по закону.

[www.metaschool.ru](http://www.metaschool.ru)

---

## Оглавление

Предисловие.....	5
1. Вершины и рёбра графа.....	6
2. Связные и несвязные графы.....	14
3. Уникурсальные графы.....	24
4. Ориентированные графы.....	35
5. Разные задачи на графы.....	46
Решения и ответы.....	54

## Предисловие

Сборник содержит 120 задач по теории графов для 6 класса. В первой главе — задачи про вершины и рёбра графа; во второй главе — задачи на связные и несвязные графы; в третьей — задачи на уникальные графы; в четвёртой — задачи на ориентированные графы; в пятой — разные задачи на графы.

Рассматриваются различные способы решения задач. Приводятся образцы оформления для первых четырёх задач каждой главы. Ко всем задачам есть ответы и подробные решения в конце книги. Книга будет интересна и полезна ученикам 6 класса, их родителям и учителям математики.

Это третья книга серии «Задачи по теории графов» 4 – 9 классы.

Материал книги был апробирован на уроках математики, на занятиях математического кружка в Физико-математическом лицее № 366 Санкт-Петербурга и в интернет-кружке МетаШколы [www.metaschool.ru](http://www.metaschool.ru).

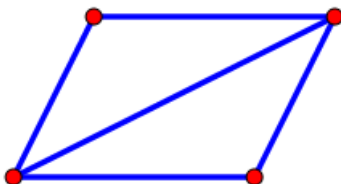
Желаем успехов в изучении математики!

## 1. Вершины и рёбра графа

*Граф* — это набор точек, некоторые из которых соединены линиями.

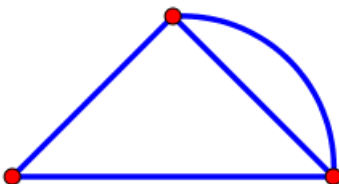
Эти точки называются *вершинами* графа, а соединяющие их линии — *рёбрами*.

Граф с 4 вершинами и 5 рёбрами:



Два ребра называются *кратными*, если они соединяют одну и ту же пару вершин.

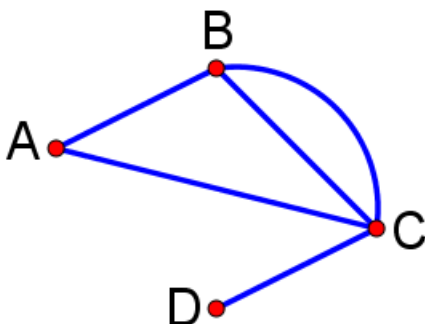
Граф с кратными рёбрами:



Число рёбер, выходящих из вершины графа, называется *степенью* этой вершины.

Степени вершин данного графа:

A — 2, B — 3, C — 4, D — 1.



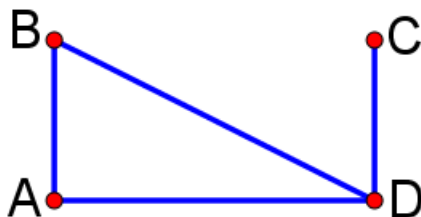
Вершина называется *чётной*, если её степень чётна, и *нечётной*, если её степень нечётна.

*Число нечётных вершин любого графа — чётно.*

В любом графе сумма степеней всех вершин является чётным числом, она равна удвоенному числу рёбер. Для того, чтобы найти число рёбер графа, надо сложить степени всех вершин и полученный результат разделить на два.

*Смежные вершины* — это вершины, соединённые ребром.

Матрица смежности графа:



	A	B	C	D
A	1	1	0	1
B	1	1	0	1
C	0	0	1	1
D	1	1	1	1

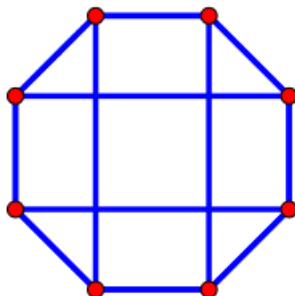
Если вершины соединены ребром, то на пересечении строки и столбца стоит 1, если не соединены ребром — 0.

1. Можно ли построить граф с 8 вершинами так, чтобы из каждой вершины выходило 3 ребра?

Решение.

Да, например:





Из каждой вершины выходит 3 ребра, тогда всего рёбер:  
 $8 \cdot 3 : 2 = 12$ .

Построить граф можно.

Ответ: да.

- 
- 
- 

24. Построить граф по матрице смежности:

	A	B	C	D
A		1	1	1
B	1		1	0
C	1	1		1
D	1	0	1	

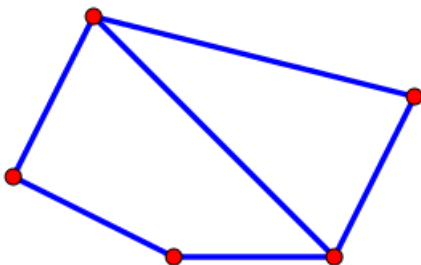
## 2. Связные и несвязные графы

Граф называется *связным*, если любые две его вершины можно соединить путём — непрерывной последовательностью рёбер.

В связном графе от любой его вершины можно по рёбрам добраться до любой другой вершины.

В связном графе только одна компонента связности.

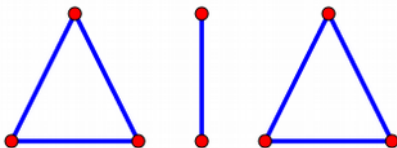
Связный граф с 5 вершинами и 6 рёбрами:



В *несвязном* графе более одной компоненты связности.

Каждая компонента связности является связным графом.

Например — несвязный граф с 8 вершинами и 7 рёбрами:

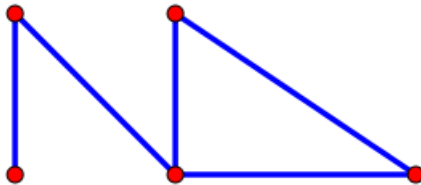


Если в связном графе  $n$  вершин, то число рёбер не менее, чем  $(n - 1)$ .

*Цикл* в графе — замкнутый путь, не проходящий дважды через одну и ту же вершину.

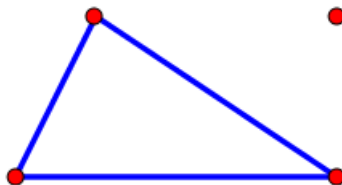
Начальная вершина в цикле совпадает с конечной вершиной.

Граф с циклом с 5 вершинами и 5 рёбрами:



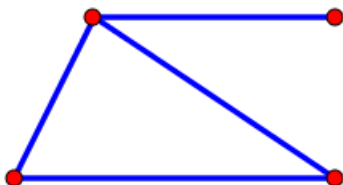
Вершина степени 0 называется *изолированной*, из неё не выходит ни одного ребра.

Граф с изолированной вершиной:



Вершина степени 1 называется *висячей*, из неё выходит ровно одно ребро.

Граф с висячей вершиной:

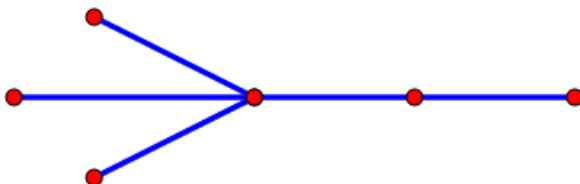


*Дерево* — связный граф без циклов.

У дерева число рёбер на единицу меньше числа вершин.

В любом дереве имеются, по крайней мере, две висячие вершины.

Дерево с 6 вершинами и 5 рёбрами:



25. Можно ли построить связный граф с 10 вершинами и 8 рёбрами?

Решение.

Если в связном графе 10 вершин, то число рёбер не менее, чем  $10 - 1 = 9$ .

Нельзя построить такой граф.

Ответ: нет.

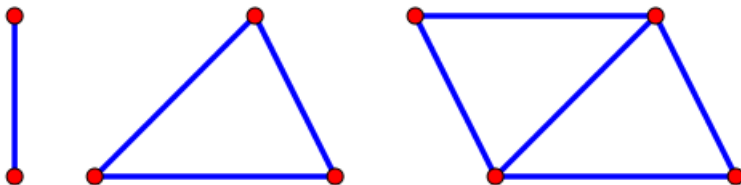
- 
- 
- 

48. На острове шесть городов: A, B, C, D, E, F. Проложены дороги: из A в B и C; из B в A, C, D; из C в A и B; из D в B, E, F; из E в D и F; из F в D и E. Дороги не пересекаются. Можно ли по этим дорогам попасть из города A в город E?

### 3. Уникурсальные графы

*Уникурсальный граф* — это связный граф, который можно построить одним росчерком, не отрывая карандаша от бумаги и не проводя по одному ребру дважды.

Три уникурсальных графа:



*В уникурсальном графе может быть любое число чётных вершин, но не более двух нечётных.*

Если только чётные вершины, то построение пути можно начинать с любой вершины и закончить его в той же вершине.

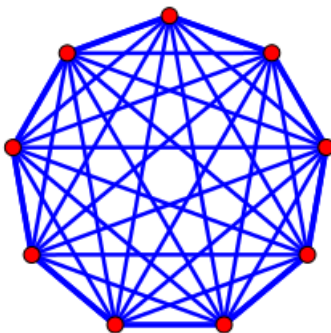
Если есть две нечётные вершины, то построение пути надо начинать с любой из нечётных вершин и закончить его в другой нечётной вершине.

Граф можно обойти, пройдя по каждому ребру только один

раз в том случае, если граф связный и нечётных вершин у него 0 или 2.

49. Можно ли нарисовать девятиугольник со всеми диагоналями, не отрывая карандаша от бумаги и не проводя по одной линии дважды?

Решение.



Все вершины степени 8.

Все вершины чётные, граф связный.

Можно нарисовать, начиная с любой вершины и заканчивая в той же вершине.

Ответ: да.

- 
- 
-

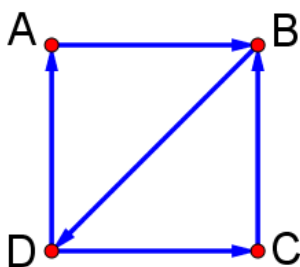
72. Степени вершин уникурсального графа: 2, 2, 2, 3, 3,  $x$ . Сумма всех степеней не менее 15 и не более 17. Найдите значение  $x$ .



## 4. Ориентированные графы

*Ориентированный граф* — это граф, в котором каждое ребро имеет направление, выбрано начало и конец ребра. Направленные рёбра называют также *дугами*.

*Матрица смежности* ориентированного графа:



	A	B	C	D
A		1	0	0
B	0		0	1
C	0	1		0
D	1	0	1	

Сумма (по строкам) исходящих степеней всех вершин:  
 $1 + 1 + 1 + 2 = 5$ .

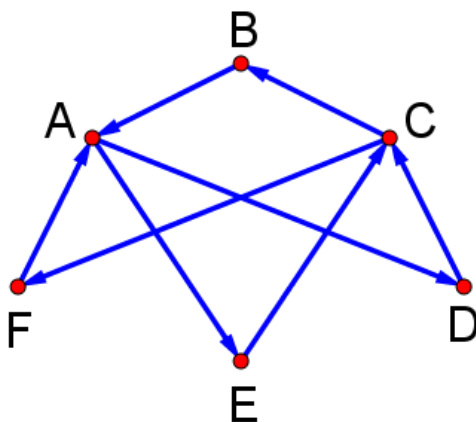
Сумма (по столбцам) входящих степеней всех вершин:  
 $1 + 2 + 1 + 1 = 5$ .

В данном графе 5 рёбер.

*Сумма исходящих степеней всех вершин равна сумме входящих степеней всех вершин: обе суммы равны числу рёбер графа.*

*Путь* в ориентированном графе — это последовательность вершин, в которой из каждой вершины идёт ребро в следующую.

73. Сколько в ориентированном графе различных путей из A в F?



Решение.

Два различных пути из A в F: A-D-C-F; A-E-C-F.

Ответ: 2.

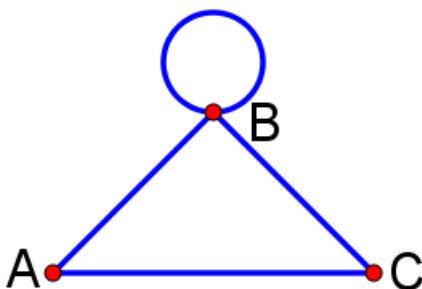
- 
- 
- 

92. На острове шесть городов: A, B, C, D, E, F. Проложены дороги с односторонним движением: из A в B; из B в C; из C в A; из D в A и C; из E в F; из F в D. Дороги не пересекаются. Можно ли из города A попасть в город F?

## 5. Разные задачи на графы

*Петля* — ребро, которое начинается и заканчивается в одной вершине.

Граф с петлёй:



Степени вершин: A — 2, B — 4, C — 2.

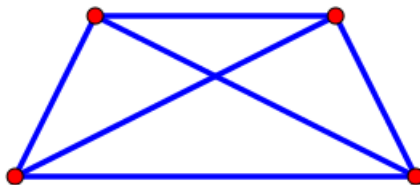
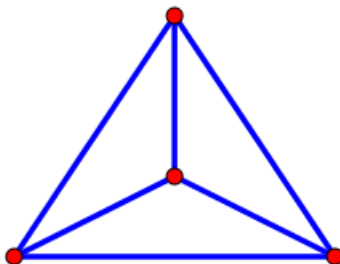
*Пустой граф* — не имеет рёбер, только вершины.

*Простой граф* — без кратных рёбер и петель.

*Полный граф* — это простой граф, в котором любые две вершины соединены ребром.

Число рёбер в полном графе с  $n$  вершинами равно:  
 $(n \cdot (n - 1)) : 2$ .

Полный граф с 4 вершинами и 6 рёбрами:



93. В простом графе (без кратных рёбер и петель) 7 вершин. Сколько рёбер может быть в таком графе?

Решение.

Если граф пустой (не имеет рёбер, только вершины), то 0 рёбер.

Если граф полный (любые две вершины соединены ребром), то  $7 \cdot 6 : 2 = 21$  ребро.

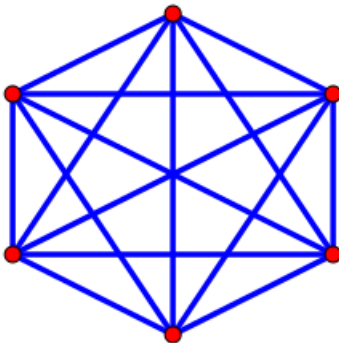
Ответ: от 0 до 21 включительно.

- 
- 
- 

120. В государстве 10 городов, каждый город с каждым соединён одной дорогой. Какое наибольшее число дорог можно закрыть на ремонт так, чтобы из каждого города можно было проехать в каждый?

## Решения и ответы

5. Да.



Из каждой вершины выходит 5 рёбер, тогда всего рёбер:  
 $6 \cdot 5 : 2 = 15$ .

Построить граф можно.

6. Нет.

Из каждой вершины выходит 3 ребра, тогда всего рёбер:  
 $7 \cdot 3 : 2$ .

$7 \cdot 3 = 21$  — на 2 не делится.

Построить граф невозможно.

- 
- 
- 

120. 36.

Число рёбер в полном графе с 10 вершинами:

$$10 \cdot 9 : 2 = 45.$$

Число дорог в дереве с 10 вершинами:  $10 - 1 = 9$ .

Число дорог, которые можно закрыть на ремонт:

$$45 - 9 = 36.$$



---

## **Электронные издания**

([СМИ МетаШкола](#))

### **Задачи на числа**

1. Смыкалова Е. В. Математика. Задачи на числа. 4 класс.
2. Смыкалова Е. В. Математика. Задачи на числа. 5 класс.
3. Смыкалова Е. В. Математика. Задачи на числа. 6 класс.
4. Смыкалова Е. В. Математика. Задачи на числа. 7 класс.
5. Смыкалова Е. В. Математика. Задачи на числа. 8 класс.
6. Смыкалова Е. В. Математика. Задачи на числа. 9 класс.

### **Задачи на части, дроби, проценты и пропорции**

1. Смыкалова Е. В. Математика. Задачи на части и дроби. 4 класс.
2. Смыкалова Е. В. Математика. Задачи на части и дроби. 5 класс.
3. Смыкалова Е. В. Математика. Задачи на дроби,

- 
- проценты и пропорции. 6 класс.
4. Смыкалова Е. В. Математика. Задачи на дроби, проценты и пропорции. 7 класс.
5. Смыкалова Е. В. Математика. Задачи на дроби, проценты и пропорции. 8 класс.
6. Смыкалова Е. В. Математика. Задачи на дроби, проценты и пропорции. 9 класс.

### **Задачи на движение**

1. Смыкалова Е. В. Математика. Задачи на движение. 4 класс.
2. Смыкалова Е. В. Математика. Задачи на движение. 5 класс.
3. Смыкалова Е. В. Математика. Задачи на движение. 6 класс.
4. Смыкалова Е. В. Математика. Задачи на движение. 7 класс.
5. Смыкалова Е. В. Математика. Задачи на движение. 8 класс.
6. Смыкалова Е. В. Математика. Задачи на движение. 9 класс.

### **Задачи на работу**

1. Смыкалова Е. В. Математика. Задачи на работу.

---

4 класс.

2. Смыкалова Е. В. Математика. Задачи на работу.

5 класс.

3. Смыкалова Е. В. Математика. Задачи на работу.

6 класс.

4. Смыкалова Е. В. Математика. Задачи на работу.

7 класс.

5. Смыкалова Е. В. Математика. Задачи на работу.

8 класс.

6. Смыкалова Е. В. Математика. Задачи на работу.

9 класс.

## **Задачи по геометрии**

1. Смыкалова Е. В. Математика. Задачи по геометрии.

4 класс.

2. Смыкалова Е. В. Математика. Задачи по геометрии.

5 класс.

3. Смыкалова Е. В. Математика. Задачи по геометрии.

6 класс.

4. Смыкалова Е. В. Математика. Задачи по геометрии.

7 класс.

5. Смыкалова Е. В. Математика. Задачи по геометрии.

8 класс.

6. Смыкалова Е. В. Математика. Задачи по геометрии.

9 класс.

---

## **Задачи по комбинаторике**

1. Смыкалова Е. В. Математика. Задачи по комбинаторике. 4 класс.
2. Смыкалова Е. В. Математика. Задачи по комбинаторике. 5 класс.
3. Смыкалова Е. В. Математика. Задачи по комбинаторике. 6 класс.
4. Смыкалова Е. В. Математика. Задачи по комбинаторике. 7 класс.
5. Смыкалова Е. В. Математика. Задачи по комбинаторике. 8 класс.
6. Смыкалова Е. В. Математика. Задачи по комбинаторике. 9 класс.

## **Задачи по теории вероятностей**

1. Смыкалова Е. В. Математика. Задачи по теории вероятностей. 4 класс.
2. Смыкалова Е. В. Математика. Задачи по теории вероятностей. 5 класс.
3. Смыкалова Е. В. Математика. Задачи по теории вероятностей. 6 класс.
4. Смыкалова Е. В. Математика. Задачи по теории вероятностей. 7 класс.
5. Смыкалова Е. В. Математика. Задачи по теории

---

вероятностей. 8 класс.

6. Смыкалова Е. В. Математика. Задачи по теории вероятностей. 9 класс.

### **Задачи по теории множеств**

1. Смыкалова Е. В. Математика. Задачи на множества. 4 класс.

2. Смыкалова Е. В. Математика. Задачи на множества. 5 класс.

3. Смыкалова Е. В. Математика. Задачи на множества. 6 класс.

4. Смыкалова Е. В. Математика. Задачи на множества. 7 класс.

5. Смыкалова Е. В. Математика. Задачи на множества. 8 класс.

6. Смыкалова Е. В. Математика. Задачи на множества. 9 класс.

### **Задачи по теории графов**

1. Смыкалова Е. В. Математика. Задачи по теории графов. 4 класс.

2. Смыкалова Е. В. Математика. Задачи по теории графов. 5 класс.

3. Смыкалова Е. В. Математика. Задачи по теории графов.

---

6 класс.

## **Бумажные издания**

([Издательство СМИО Пресс](#))

### **1 класс**

1. Смыкалова Е. В. Математика. Задачи. Развивающие игры. 1 класс

### **2 класс**

2. Смыкалова Е. В. Математика. Задачи. Развивающие игры. 2 класс

### **3 класс**

3. Смыкалова Е. В. Математика. Задачи. Развивающие игры. 3 класс

### **4 класс**

4. Смыкалова Е. В. Математика. Задачи. Развивающие игры. 4 класс

### **5 класс**

5. Смыкалова Е. В. Математика. Самостоятельные работы. 5 класс

- 
6. Смыкалова Е. В. Математика. Сборник задач 5 класс
  7. Смыкалова Е. В. Математика. Дополнительные главы 5 класс
  8. Смыкалова Е. В. Математика. Задачи. Развивающие игры 5 класс

### **5-6 классы**

9. Смыкалова Е. В. Устный счёт в таблицах. 5-6 классы
10. Смыкалова Е. В. Математика. Опорные конспекты 5-6 классы
11. Смыкалова Е. В. Развивающее обучение на уроках математики в 5-6 классах. Программа, поурочное планирование, тесты
12. Смыкалова Е. В. Тренировка памяти и внимания на уроках математики 5-6 классы
13. Смыкалова Е. В. Устное умножение в таблицах. 5-6 классы

### **6 класс**

14. Смыкалова Е. В. Математика. Сборник задач 6 класс
15. Смыкалова Е. В. Математика. Дополнительные главы 6 класс
16. Смыкалова Е. В. Математика. Самостоятельные работы. 6 класс
17. Смыкалова Е. В. Математика. Задачи. Развивающие игры 6 класс

---

## **7 класс**

- 18. Смыкалова Е. В. Математика. Сборник задач 7 класс
- 19. Смыкалова Е. В. Математика. Дополнительные главы 7 класс
- 20. Смыкалова Е. В. Алгебра. Самостоятельные работы. 7 класс.
- 21. Смыкалова Е. В. Самостоятельные работы по геометрии. 7 класс
- 22. Смыкалова Е. В. Математика. Задачи. Развивающие игры. 7 класс

## **7-9 классы**

- 23. Смыкалова Е. В. Алгебра. Опорные конспекты 7-9 классы
- 24. Смыкалова Е. В. Геометрия. Опорные конспекты 7-9 классы

## **8 класс**

- 25. Смыкалова Е. В. Алгебра. Самостоятельные работы. 8 класс
- 26. Смыкалова Е. В. Геометрия. Самостоятельные работы. 8 класс
- 27. Смыкалова Е. В. Математика. Задачи. Развивающие игры. 8 класс



---

## **8-9 классы**

28. Смыкалова Е. В. Модули, параметры, многочлены.  
8-9 классы

## **9 класс**

29. Смыкалова Е. В. Самостоятельные работы по алгебре.  
9 класс

30. Смыкалова Е. В. Самостоятельные работы по геометрии. 9 класс

31. Смыкалова Е. В. Математика. Задачи. Развивающие игры. 9 класс

## **Все классы**

32. Смыкалова Е. В. Математические каникулы.

Увлекательные математические игры и головоломки

33. Смыкалова Е. В. Математические игры. На пляже, в пути, у камина



	A	B	C	D	E
A		1	0	1	0
B	1		1	1	0
C	0	1		1	0
D	1	1	1		0
E	0	0	0	0	

ISBN 978-5-6051895-5-8



9 785605 189558 >